

**МИНОБРНАУКИ РОССИИ**

федеральное государственное бюджетное образовательное учреждение  
высшего образования

**«Кузбасский государственный технический университет имени Т. Ф. Горбачева»**

Институт информационных технологий, машиностроения и автотранспорта

УТВЕРЖДАЮ

Директор ИИТМА

\_\_\_\_\_ Д.В. Стенин

« \_\_\_\_ » \_\_\_\_\_ 20\_\_ г.

**Фонд оценочных средств дисциплины**

**Теоретическая механика**

Направление подготовки 23.03.03 Эксплуатация транспортно-технологических машин и комплексов

Направленность (профиль) Автомобили и автомобильное хозяйство

Присваиваемая квалификация

"Бакалавр"

Формы обучения

очная

## 1 Паспорт фонда оценочных средств

Форма (ы) текущего контроля	Компетенции, формируемые в результате освоения дисциплины (модуля)	Индикатор(ы) достижения компетенции	Результаты обучения по дисциплине (модулю)	Уровень
<p>Опрос по контрольным вопросам, выполнение домашних заданий, выполнение и защита индивидуальных заданий</p>	<p><b>ОПК-1</b> Способен применять естественнонаучные и общинженерные знания, методы математического анализа и моделирования в профессиональной деятельности</p>	<p>Формулирует теоретико-механические схемы и модели реальных объектов и механических процессов, сопровождающих эксплуатацию транспортно-технологических машин и комплексов.</p>	<p><b>Знать</b> основные понятия и определения статики, условия равновесия сил, виды движения твердого тела, основные законы, понятия и определения динамики точки и механических систем, основные принципы механики с целью формирования навыков разработки проектных инновационных решений возникающих в ходе профессиональной деятельности</p> <p><b>Уметь</b> составлять уравнения равновесия, определять кинематические характеристики движения точки и твердого тела, составлять и решать дифференциальные уравнения движения механических систем, использовать основные принципы механики при исследовании различных кинематических состояний механических систем с целью формирования навыков разработки проектных инновационных решений.</p> <p><b>Владеть</b> методами статического расчета абсолютно твердых тел в различных условиях его нагружения, методами кинематического расчета механизмов различных технических систем, методами динамического расчета движения механических систем с использованием основных положений классической и аналитической механики с целью формирования навыков построения и исследования механических моделей технических систем с использованием возможностей современных компьютеров и информационных технологий.</p>	<p>Высокий или средний</p>

Опрос по контрольным вопросам, выполнение домашних заданий, выполнение и защита индивидуальных заданий.	ОПК-3 Способен в сфере своей профессиональной деятельности проводить измерения, наблюдения, обрабатывать и представлять экспериментальные данные и результаты испытаний	Оценивает техническую эффективность различных вариантов проектных решений с учётом результатов проведённого теоретико-механического моделирования.	<p><b>Знать</b> методы теоретической механики, позволяющие анализировать проблемы и задачи, возникающие в ходе профессиональной деятельности.</p> <p><b>Уметь</b> применять фундаментальные законы теоретической механики для решения инженерных задач, возникающих в ходе эксплуатации транспортно-технологических машин и комплексов, подбирать физико-математический аппарат, необходимый для их решения.</p> <p><b>Владеть</b> методами решения задач механики, позволяющие установить механический смысл и математическое представление теоретических понятий, методами анализа и систематизации информации для идентификации, формулирования и решения инженерных задач, возникающих в ходе эксплуатации транспортно-технологических машин и комплексов</p>	Высокий или средний
---	---	--	---	---------------------

**Высокий уровень результатов обучения**– знания, умения и навыки соотносятся с индикаторами достижения компетенции, рекомендованные оценки: отлично; хорошо; зачтено.  
**Средний уровень результатов обучения**– знания, умения и навыки соотносятся с индикаторами достижения компетенции, рекомендованные оценки: хорошо; удовлетворительно; зачтено.  
**Низкий уровень результатов обучения**– знания, умения и навыки не соотносятся с индикаторами достижения компетенции, оценивается неудовлетворительно или не зачтено.

## 2. Типовые контрольные задания или иные материалы

Текущий контроль успеваемости и аттестационные испытания обучающихся могут быть организованы с использованием ресурсов ЭИОС КузГТУ. Полный перечень оценочных материалов расположен в ЭИОС КузГТУ.: <https://el.kuzstu.ru/login/index.php>.

Текущий контроль успеваемости и аттестационные испытания могут проводиться в письменной и (или) устной, и (или) электронной форме.

### 5.2.1. Оценочные средства при текущем контроле

Текущий контроль успеваемости и промежуточная аттестация обучающихся могут проводиться как при непосредственном взаимодействии педагогического работника с обучающимися, так и с использованием ресурсов ЭИОС КузГТУ, в том числе синхронного и (или) асинхронного взаимодействия посредством сети «Интернет».

### 2.1. Оценочные средства при текущем контроле

#### Опрос по контрольным вопросам (КВ):

При проведении текущего контроля обучающимся будет письменно, либо устно задано два вопроса, на которые они должны дать ответы.

#### Критерии оценивания:

- 85–100 баллов – при правильном и полном ответе на два вопроса;
- 65–84 баллов – при правильном и полном ответе на один из вопросов и правильном, но не полном ответе на другой из вопросов;
- 25–64 баллов – при правильном и неполном ответе только на один из вопросов;
- 0–24 баллов – при отсутствии правильных ответов на вопросы.

#### Примерный перечень контрольных вопросов:

##### Раздел 1 «Статика»

1. Что в механике называют связью?
2. Дайте определение момента силы относительно центра.
3. Какая система сил называется парой сил?
4. Дайте определение момента силы относительно оси.
5. Первая форма уравнений равновесия плоской системы сил.

#### **Раздел 2 «Кинематика»**

1. Записать уравнения движения точки в координатной форме.
2. Модуль полного ускорения точки при естественном способе задания движения.
3. Как в общем случае найти положение МЦС?
4. Какое движение точки называется абсолютным?
5. Как направлен вектор ускорения Кориолиса?

#### **Раздел 3 «Динамика» Часть 1**

1. Что изучается в разделе теоретической механики «Динамика»?
2. Какая величина является мерой инертности тела при вращательном движении?
3. Как вычислить кинетическую энергию при поступательном движении тела?
4. Дифференциальные уравнения, вращательного тела.
5. Меры движения механической системы.

#### **Раздел 4 «Динамика» Часть 2**

1. Принцип Даламбера для материальной точки.
2. Чему равно число степеней свободы механической системы?
3. Дайте определение возможных перемещений, их обозначение.
4. Дайте определение обобщенной координаты.
5. Дайте определение обобщенной силы.

#### **Выполнение общих заданий (ОЗ)**

Обучающиеся в рабочих тетрадях решают 5 общих задач по каждому разделу дисциплины.

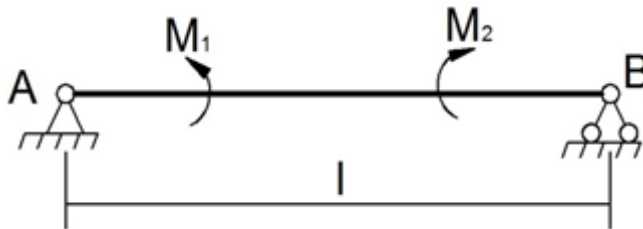
#### **Критерии оценивания:**

- 85-100 баллов - правильно решено 5 задач;
- 75-84 баллов - правильно решено 4 задачи;
- 65-74 баллов - правильно решено 3 задачи;
- 0-44 баллов - правильно решено менее 3 задач.

#### **Примерный перечень общих задач**

##### **Раздел 1 «Статика»**

На балку, длина которой  $AB=3\text{м}$ , действуют пары сил с моментом  $M_1=2\text{кНм}$  и  $M_2=8\text{кНм}$ . Определить в модуль реакции опоры В.



##### **Раздел 2 «Кинематика»**

Ротор турбины имел угловую скорость, соответствующую 3600 об/мин. Вращаясь равнозамедленно, ротор уменьшил вдвое свою угловую скорость за 12 с. Сколько оборотов сделал ротор за это время?

##### **Раздел 3 «Динамика» Часть 1**

Тело массы  $m$  находится на наклонной плоскости, составляющей угол  $\alpha$  с вертикалью. К телу прикреплена пружина, жесткость которой  $C$ . Пружина параллельна наклонной плоскости. Найти уравнение движения тела, если в начальный момент оно было прикреплено к концу не растянутой пружины и ему была сообщена начальная скорость  $v_0$ , направленная вниз по наклонной плоскости. Начало координат взять в положении статического равновесия.

##### **Раздел 4 «Динамика» Часть 2**

Однородный сплошной круглый диск катится без скольжения по наклонной плоскости, расположенной под углом  $\alpha$  к горизонту. Ось диска образует угол  $\beta$  с линией наибольшего ската. Определить ускорение центра масс диска, считая, что его качение происходит в одной вертикальной плоскости.

#### **Выполнение и защита индивидуальных заданий (ИЗ)**

Обучающиеся в печатном или электронном виде представляют по одной решенной индивидуальной задаче по каждому разделу дисциплины. Обучающиеся должны владеть материалом,

представленным в индивидуальном задании, и способны обосновать все принятые решения.

Содержание индивидуального задания:

1. Титульный лист по образцу.
2. Цель практической работы.
3. Расчетные схемы, поясняющие решение задачи.
4. Основные расчетные формулы с обязательным пояснением величин, входящих в формулу.
5. Ход решения задачи.
6. Ответы на задание.

#### Критерии оценивания:

- 85-100 баллов - задача решена правильно в полном объеме, задание оформлено в соответствии с установленными требованиями, при этом обучающийся владеет материалом, представленном в индивидуальном задании, и может обосновать все принятые решения;

- 75-84 баллов - задача решена правильно в полном объеме, задание оформлено с незначительными отклонениями от установленных требований, при этом обучающийся владеет материалом, представленном в индивидуальном задании, и может обосновать все принятые решения;

- 65-74 баллов - задача решена правильно в полном объеме, задание оформлено с значительными отклонениями от установленных требований, при этом обучающийся владеет материалом, представленном в индивидуальном задании, и может обосновать все принятые решения;

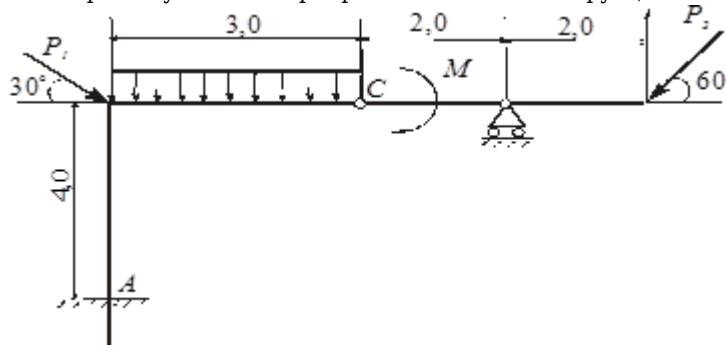
- 0-64 баллов - задача не решена, решена не верно, оформление в полном объеме не соответствует установленным требованиям или обучающийся не владеет материалом, представленном в индивидуальном задании, и не может обосновать все принятые решения.

#### Примеры индивидуальных заданий

##### Раздел 1 «Статика»

##### Расчет опорных реакций составной конструкции

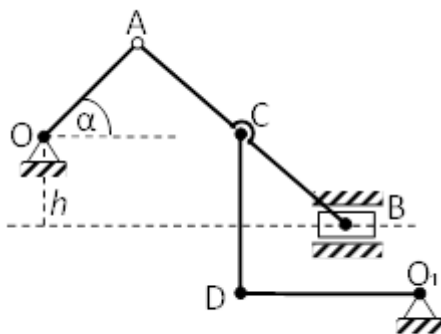
**Дано:** схема конструкции  $P_1=2$  кН,  $P_2=4$  кН,  $M=12$  кН×м,  $q=2$  кН/м. Определить реакции связей А и В и давление в промежуточном шарнире С составной конструкции.



##### Раздел 2 «Кинематика»

##### Кинематический расчет многозвенного механизма

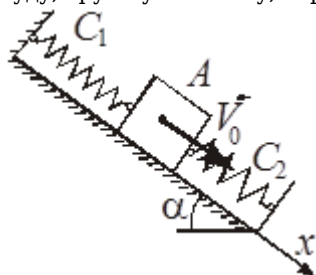
На схеме представлен нецентральный кривошипно-шатунный механизм. Кривошип  $OA$  вращающийся с угловой скоростью  $\omega$  вокруг оси  $O$ , составляет с горизонтом угол  $\alpha$ . Длина кривошипа  $OA = 40$  см, шатунов  $AB$  и  $CD$  соответственно 200 см и 60 см,  $AC=BC$ . Поршень  $B$  движется в горизонтальных направляющих. Кривошип вращается вокруг оси  $O_1$ . Для заданного положения механизма определить скорости точек  $B, C, D$ , угловые скорости шатунов  $AB$  и  $CD$ , ускорение ползуна  $B$ , угловое ускорение звена  $AB$ .



##### Раздел 3 «Динамика. Часть 1»

### Динамика материальной точки

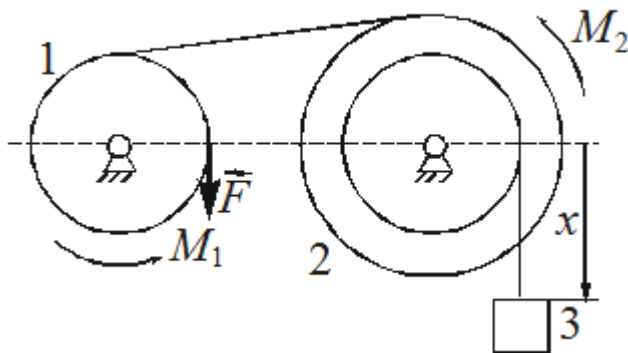
Груз  $A$  массой  $m = 1$  кг, расположенный на наклонной плоскости  $\alpha = 60^\circ$ , смещен относительно положения статического равновесия на  $l_0 = 0$  и ему сообщается начальная скорость  $V_0 = 5$  м/с. После этого груз  $A$  под действием упругой силы пружин начинает совершать колебательные движения. Пружины, жесткость которых  $C_1 = 1$  Н/см и  $C_2 = 3$  Н/см, соединены последовательно. Определить амплитуду, круговую частоту, период колебаний и уравнение движения груза  $A$



### Раздел 4 «Динамика. Часть 2»

#### Применение общего уравнения динамики к изучению движения механической системы с одной степенью свободы

Для механической системы, изображенной на рисунке, задано  $M_1 = 10$  Н·м,  $M_2 = 20$  Н·м,  $P_1 = 200$  Н,  $P_2 = 300$  Н,  $P_3 = 500$  Н,  $F = 2$  Н,  $R_2 = 0,3$  м,  $r_1 = 0,2$  м,  $r_2 = 0,15$  м,  $r_3 = 0,1$  м. Найти ускорение тела 3.



Итоговый балл будет рассчитан как среднеарифметическое значение из трех критериев оценки (КВ, ОЗ, ИЗ).

#### 5.2.2 Оценочные средства при промежуточной аттестации

Обучающиеся, имеющие по результатам текущего контроля по дисциплине хотя бы один неудовлетворительный результат (не выполненные общие задания, а также не выполненные и не защищенные индивидуальные задания), обязаны, не менее чем за 5 рабочих дней до дня аттестационного испытания, установленного в соответствии с расписанием консультаций, предоставить педагогическому работнику выполненные работы и защитить их.

Формой промежуточной аттестации является экзамен, в процессе которого оцениваются результаты обучения по дисциплине и соотносятся с установленными в рабочей программе индикаторами достижения компетенций. Инструментом измерения результатов обучения по дисциплине является устный ответ обучающегося на 2 теоретических вопроса, выбранных случайным образом или прохождения тестирования.

#### Перечень теоретических вопросов к экзамену

1. Силы и системы сил
2. Аксиомы статики
3. Связи и реакции связей
4. Момент силы относительно центра и оси. Связь между ними.
5. Пара сил. Момент пары сил.
6. Сложение пар сил. Условие равновесия пар
7. Условие и уравнения равновесия пространственной системы сил
8. Уравнения равновесия плоской системы сил
9. Законы трения скольжения. Реакция шероховатых связей, угол трения
10. Трение качения. Равновесие при наличии трения.
11. Способы задания движения точки

12. Скорости и ускорения точки при координатном способе задания движения.
13. Скорости и ускорения точки при естественном способе задания движения.
14. Частные случаи движения точки
15. Поступательное движение твердого тела, его свойства
16. Вращательное движение твердого тела, угловая скорость, угловое ускорение тела. Частные случаи вращения тела
17. Плоскопараллельное движение тела.
18. Мгновенный центр скоростей. Определение скоростей при помощи МЦС.
19. Частные случаи определения положения МЦС.
20. Сложное движение точки
21. Абсолютная скорость точки
22. Абсолютное ускорение точки
23. Кариолисово ускорение точки
24. Законы динамики точки
25. Первая и вторая задача динамики
26. Понятие о механической системе. Силы внешние и внутренние, их свойства
27. Теорема о кинетической энергии точки и механической системы.
28. Работа силы, примеры вычисления работы сил
29. Принцип Даламбера для точки и механической системы
30. Главный вектор и главный момент сил инерции
31. Возможные перемещения системы. Идеальные связи
32. Принцип возможных перемещений
33. Общее уравнение динамики
34. Уравнение Лагранжа II-рода

Критерии оценивания:

- два теоретических вопроса отвечены в полном объеме без замечаний или с незначительными замечаниями, на дополнительные вопросы даны правильные ответы – 85...100 баллов;

- один из теоретических вопросов отвечен в полном объеме, второй в неполном объеме, на дополнительные вопросы даны в основном правильные ответы – 75...84 балла;

- один из теоретических вопросов отвечен в полном объеме без замечаний или с незначительными замечаниями, ответа на второй вопрос не последовало или на два вопроса даны ответы не в полном объеме, на дополнительные вопросы даны в основном правильные ответы – 65...74 балла;

- в прочих случаях – 0...64 балла.

#### **Тестирование**

При проведении тестирования обучающимся необходимо ответить на 20 тестовых вопросов.

Например:

Примеры тестовых заданий

1. Парой сил называется...

+: система двух равных по модулю, параллельных и противоположно направленных сил

-: система двух равных по модулю, не параллельных и противоположно направленных сил

-: система двух равных по модулю, противоположно направленных сил

-: система двух равных по модулю сил, линии действия которых совпадают.

2. Дополните:

... скорость тела в данный момент времени численно равна первой производной от угла поворота по времени.

+: "угловая"

За каждый правильно данный ответ обучающийся получает 5 баллов.

Количество баллов	0...49	50...64	65...84	85...100
Шкала оценивания	Неудовлетворительно	Удовлетворительно	Хорошо	Отлично
	Не зачтено	Зачтено		

#### **5.2.3. Методические материалы, определяющие процедуры оценивания знаний, умений, навыков и (или) опыта деятельности, характеризующие этапы формирования компетенций**

При проведении текущего контроля успеваемости в форме опроса по распоряжению педагогического работника обучающиеся убирают все личные вещи, электронные средства связи, печатные и (или) рукописные источники информации, достают чистый лист бумаги любого размера и ручку. На листе бумаги записываются Фамилия, Имя, Отчество (при наличии), номер учебной группы и дата проведения текущего контроля успеваемости. Педагогический работник задает вопросы, которые

могут быть записаны на подготовленный для ответа лист бумаги. В течение установленного педагогическим работником времени обучающиеся письменно формулируют ответы на заданные вопросы. По истечении установленного времени лист бумаги с подготовленными ответами обучающиеся передают педагогическому работнику для последующего оценивания результатов текущего контроля успеваемости.

При проведении текущего контроля успеваемости в форме тестирования по распоряжению педагогического работника обучающиеся убирают все личные вещи, электронные средства связи, печатные и (или) рукописные источники информации, получают тестовые задания в печатной форме, где указывают Фамилия, Имя, Отчество (при наличии), номер учебной группы и дату проведения текущего контроля успеваемости. В течение установленного педагогическим работником времени обучающиеся письменно проходят тестирование. По истечении установленного времени тестовые задания с ответами обучающиеся передают педагогическому работнику для последующего оценивания результатов текущего контроля успеваемости.

Компьютерное тестирование проводится с использованием ЭИОС КузГТУ.: <https://el.kuzstu.ru/login/index.php>

При проведении текущего контроля успеваемости в формах выполнения общего задания, а также выполнения и защиты индивидуальных заданий обучающиеся на практических занятиях или на консультациях представляют выполненные задания. Педагогический работник анализирует правильность выполненных заданий, путем общения с обучающимся оценивает владение последним материалом, приведенном в задании, и его способность обосновать все принятые решения, после чего оценивает достигнутый результат.

При проведении промежуточной аттестации в форме экзамена (зачета) обучающийся представляет сводный отчет по практическим (лабораторным) работам, педагогический работник анализирует содержание отчета, задает обучающемуся вопросы по материалу, представленному в отчете, и просит обосновать принятые решения. Если обучающийся владеет материалом, представленным в сводном отчете, и может обосновать все принятые решения, то педагогический работник задает ему теоретические вопросы, на которые обучающийся сразу же должен дать ответы в устной форме. Педагогический работник при оценке ответов имеет право задать обучающемуся вопросы, необходимые для пояснения данных ответов, а также дополнительные вопросы по содержанию дисциплины. Если отчеты по всем практическим (лабораторным) работам приняты педагогическим работником в течение семестра, то сводный отчет по практическим (лабораторным) работам обучающийся может не представлять, при этом считается, он владеет материалом, представленном в сводном отчете, и может обосновать все принятые решения.

При проведении промежуточной аттестации в форме тестирования по распоряжению педагогического работника обучающиеся убирают все личные вещи, электронные средства связи, печатные и (или) рукописные источники информации, получают тестовые задания в печатной форме, где указывают Фамилия, Имя, Отчество (при наличии), номер учебной группы и дату проведения промежуточной аттестации. В течение установленного педагогическим работником времени обучающиеся письменно проходят тестирование. По истечении установленного времени тестовые задания с ответами обучающиеся передают педагогическому работнику для последующего оценивания результатов.

Компьютерное тестирование может проводиться с использованием ЭИОС КузГТУ. : <https://el.kuzstu.ru/login/index.php>

Результаты текущего контроля успеваемости доводятся до сведения обучающихся в течение трех учебных дней, следующих за днем проведения текущего контроля успеваемости, и могут быть учтены педагогическим работником при промежуточной аттестации. Результаты промежуточной аттестации доводятся до сведения обучающихся в день проведения промежуточной аттестации.

При подготовке ответов на вопросы при проведении текущего контроля успеваемости и при прохождении промежуточной аттестации обучающимся запрещается использование любых электронных средств связи, печатных и (или) рукописных источников информации. В случае обнаружения педагогическим работником факта использования обучающимся при подготовке ответов на вопросы указанных источников информации – оценка результатов текущего контроля успеваемости и (или) промежуточной аттестации соответствует 0 баллов.

При прохождении текущего контроля успеваемости и промежуточной аттестации обучающимися с ограниченными возможностями здоровья и инвалидами, допускается присутствие в помещении лиц, оказывающим таким обучающимся соответствующую помощь, а для подготовки ими ответов отводится дополнительное время с учетом особенностей их психофизического развития, индивидуальных возможностей и состояния здоровья.